

**Exercices pour les 1ères**  
**Thème : étude de fonction, équations inéquations.**

**Exercice 1**

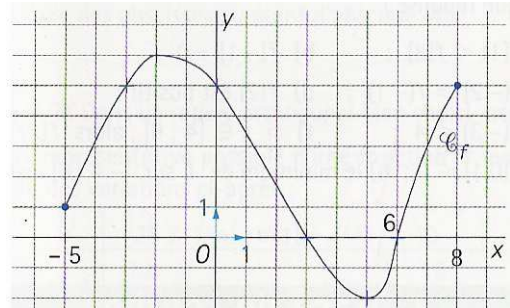
Traduire par une appartenance à un intervalle, chacune des inégalités suivantes.

- a)  $4 \leq x \leq 7$                       b)  $x \geq 9$                       c)  $-4 < x \leq 0$                       d)  $2 \leq x < 8$   
 e)  $x < -1$                       f)  $-3 < x < 6$

**Exercice 2**

On considère la fonction  $f$  représentée ci-contre.

- a) Donner l'ensemble de définition de  $f$ ,  $\mathcal{D}_f$ .
- b) Lire les images par  $f$  de  $-2$  et  $0$ .
- c) Lire les antécédents par  $f$  de  $-2$ ,  $0$  et  $7$ .
- d) Énoncer les variations de  $f$ .
- e) Préciser le maximum et le minimum de  $f$  sur  $\mathcal{D}_f$  s'ils existent.
- f) Dresser le tableau de variation complet de  $f$ .



**Exercice 3**

Soit  $f$  la fonction définie sur  $\mathbb{R}$  par :  $f(x) = -2x^2 - x + 1$ .

- 1) Calculer l'image par  $f$  des réels  $\frac{4}{3}$  et  $-2$ .
- 2) Les points  $A(1 ; -2)$  et  $B(\sqrt{2} ; -4,41)$  appartiennent-ils à la courbe représentative de  $f$ ,  $C_f$ . Justifier.
- 3) Est-il vrai que  $2$  est un antécédent de  $-5$  par  $f$ ? justifier !

**Exercice 4**

Soit  $f$  la fonction définie sur  $\mathbb{R}$  par  $f(x) = -\frac{1}{4}x^2 + 2x - 3$ .

- 1) A l'aide de la calculatrice, donner un tableau de valeurs de  $f(x)$  pour des valeurs de  $x$  allant de  $-2$  à  $8$  avec un pas de  $1$ .
- 2) Donner deux antécédents de  $0$  par  $f$ .
- 3) Vérifier par le calcul.

**Exercice 5**

Soit  $f$  la fonction définie sur  $\mathbb{R}$  par  $f(x) = -2(3x - 1)^2$ .

- 1) Justifier que  $4$  n'admet pas d'antécédent par  $f$ .
- 2) Déterminer les antécédents de  $-6$  par  $f$ .

**Exercice 6**

On donne l'algorithme suivant :

**Entrée :**  
 Saisir  $x$ .

**Traitement :**  
 Affecter à  $B$  la valeur  $3x$ .  
 Affecter à  $C$  la valeur  $B - 1$ .  
 Affecter à  $D$  la valeur  $C \times C$ .  
 Affecter à  $E$  la valeur  $9x^2$ .  
 Affecter à  $Y$  la valeur  $D - E$ .

**Sortie :**  
 Afficher  $Y$ .

1. Que donne l'algorithme avec  $x = -2$ .
2. On pose  $Y = f(x)$ . Exprimer  $f(x)$  en fonction de  $x$ .
3. Quel nombre prendre pour  $x$  pour voir affiché  $Y = -12071$ .

### Exercice 7

Une fonction  $f$  définie sur  $\mathbb{R}$  est connue par son tableau de variations ci-dessous :

$x$	$-\infty$	1	3	$+\infty$
Variations de $f$		↗ 7	↘ -1	↗

En utilisant le tableau de variations, répondre aux affirmations suivantes par vrai, faux ou le tableau ne permet de savoir. Justifier.

- $f(4) > f(6)$
- $f(1,5) > f(2,5)$
- $f(-5) < 7$
- $f(\sqrt{2}) < f(5)$ .

### Exercice 8

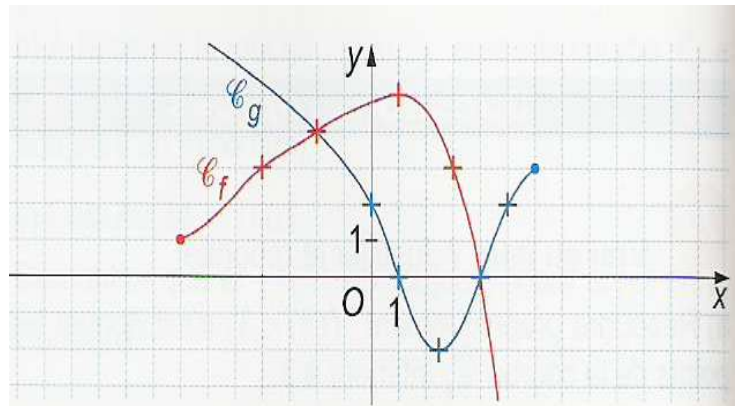
Soit  $f$  la fonction définie sur  $\mathbb{R}$  par  $f(x) = x^2 + 1$ .

- Calculer  $f(-2)$  et  $f(1)$ . Pourquoi peut-on affirmer que  $f$  n'est pas croissante sur  $\mathbb{R}$  ?
- Calculer  $f(-1)$  et  $f(2)$ . Que peut-on dire du sens de variation de  $f$  sur  $\mathbb{R}$  ?

### Exercice 9

Deux fonctions  $f$  et  $g$  sont connues par leur courbe  $\mathcal{C}_f$  et  $\mathcal{C}_g$  ci-contre.

- Donner l'ensemble de définition de  $f$ .
- Résoudre graphiquement les équations :
  - $f(x) = 3$ . Justifier la démarche.
  - $f(x) = 0$ . (Sans justification)
  - $f(x) = 6$ . (Sans justification)

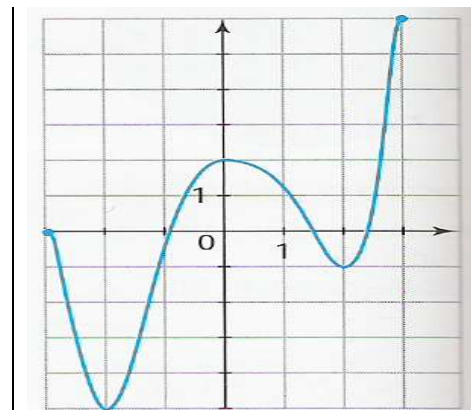


- Résoudre graphiquement les inéquations :
  - $f(x) < 3$ . Justifier la démarche.
  - $f(x) \geq 0$ . (Sans justification)
- Résoudre graphiquement : (Justifier la démarche)
  - $f(x) = g(x)$  ;
  - $f(x) < g(x)$ .

### Exercice 10

On donne la représentation graphique d'une fonction  $f$ .

- Dresser son tableau de variation complet.
- Encadrer  $f(x)$  le plus précisément possible dans chacun des cas suivants :
  - $x \in [-3; 3]$
  - $x \in [-1; 2]$
  - $x \in [-3; 2]$ .



### Exercice 11

La fonction  $f$  est définie sur l'intervalle  $[-3; 3]$  par  $f(x) = x^3 + x^2 - 4x - 4$ .

- Tracer à l'écran de la calculatrice la courbe représentative de  $f$  sur l'intervalle  $[-3; 3]$ . Quels semblent être les antécédents de 0 par  $f$  ?
- Développer l'expression  $(x^2 - 4)(x + 1)$ .
- Résoudre alors l'équation  $f(x) = 0$ .

### Exercice 12

Soit  $f$  et  $g$  deux fonctions définies sur  $\mathbb{R}$  par  $f(x) = x^2(2 - x)$  et  $g(x) = 2 - x$ .

- Résoudre l'inéquation  $f(x) > 0$ .
- Résoudre l'inéquation  $f(x) < g(x)$ .